

Karta pracy *Elementy rysunku technicznego*

imię i nazwisko	
klasa	data

1. Nazwij podane przykłady linii używanych w rysunku technicznym. Określ zastosowanie każdej z nich.

a) ————— Linia

Zastosowanie:

b) ————— Linia

Zastosowanie:

c) - - - - - Linia


Zastosowanie:

d) — — — — — Linia

Zastosowanie:

2. Ustal i zapisz wymiary gumki do ścierania oraz paczki chusteczek higienicznych. Następnie oblicz długość, szerokość i wysokość tych przedmiotów w podziałkach 2:1 oraz 1:2.

a)



podziałka 1:1

długość

szerokość

wysokość

podziałka 2:1

długość

szerokość

wysokość

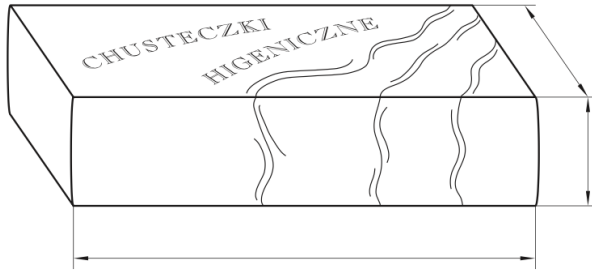
podziałka 1:2

długość

szerokość

wysokość

b)



podziałka 1:1

podziałka 2:1

podziałka 1:2

długość

długość

długość

szerokość

szerokość

szerokość

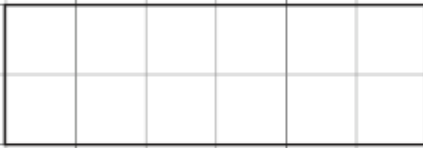
wysokość

wysokość

wysokość

3. Narysuj figurę i bryłę w podanych podziałkach.

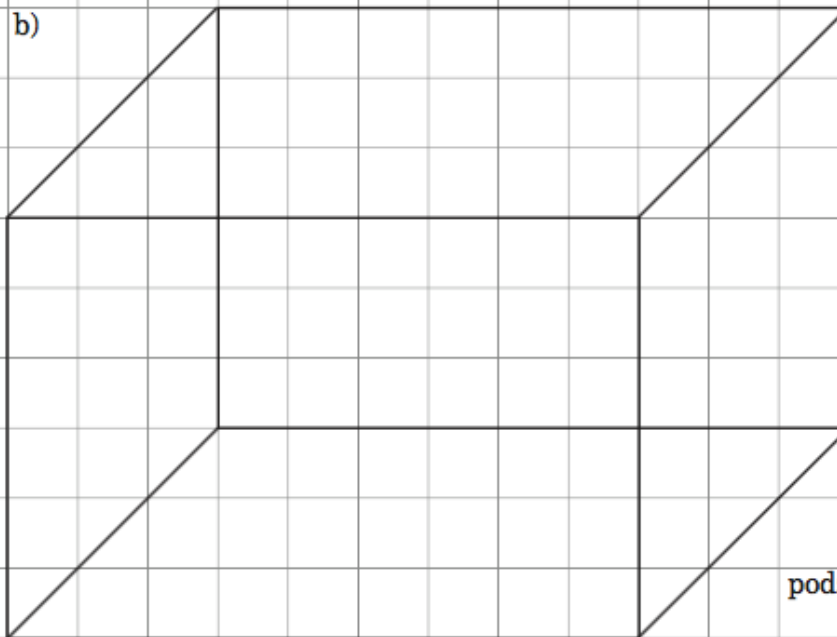
a)



podziałka 2:1

podziałka 1:2

b)



podziałka 1:3