

# VII.1 Pola figur płaskich

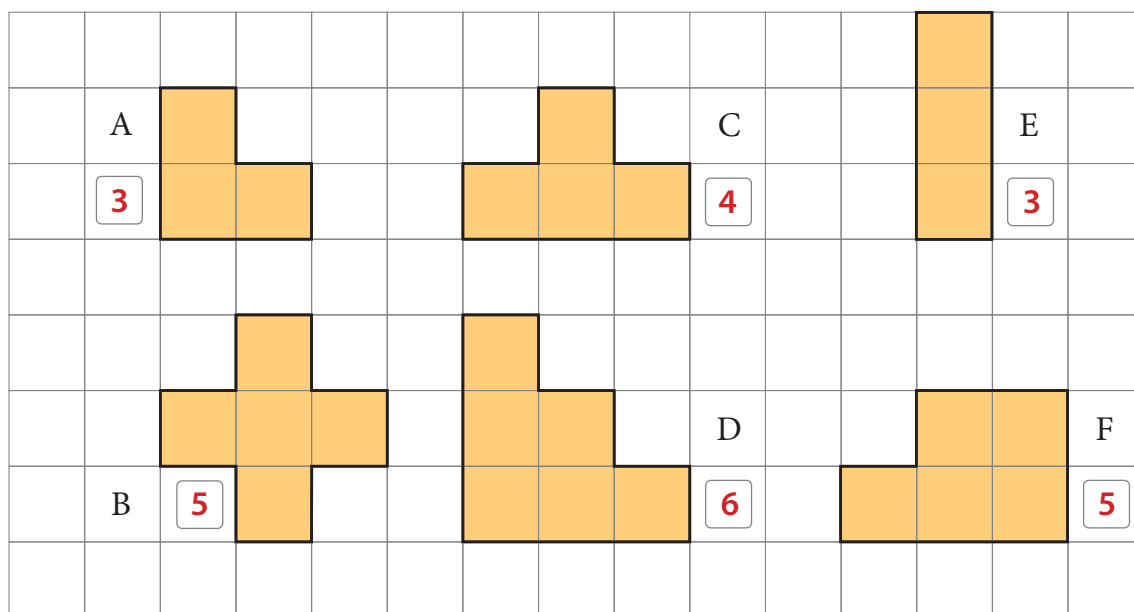


Obejrzyj film

docwiczenia.pl  
Kod: M4TYXE

## Rozgrzewka

- 1 Pokoloruj figury. Napisz w okienkach, z ilu kwadratów się składają.

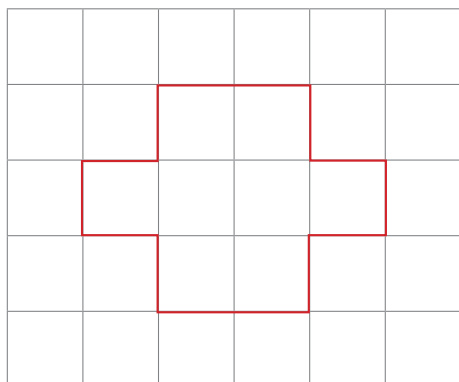


Największe pole ma figura **D**.

## Trening

- 2 Narysuj figurę składającą się:  
z 8 kwadratów,

Np.



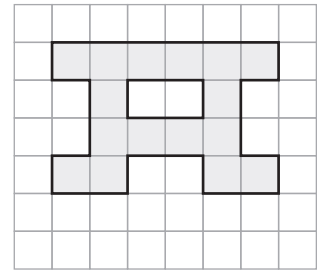
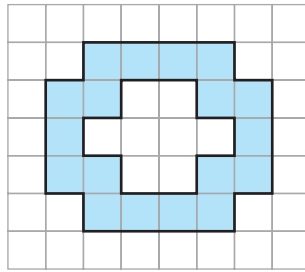

z 15 kwadratów.

Np.

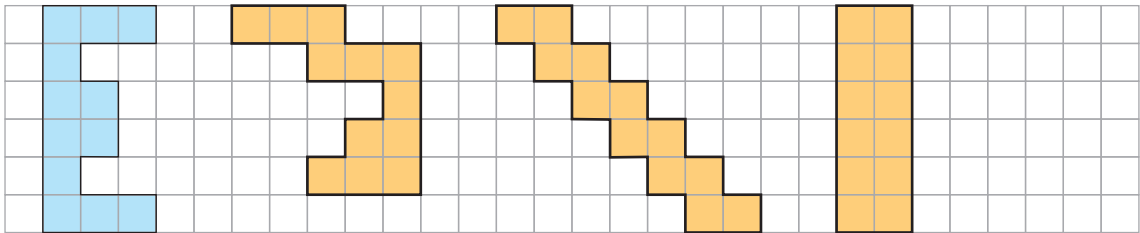


Otocz zieloną linią figurę, która ma większe pole.

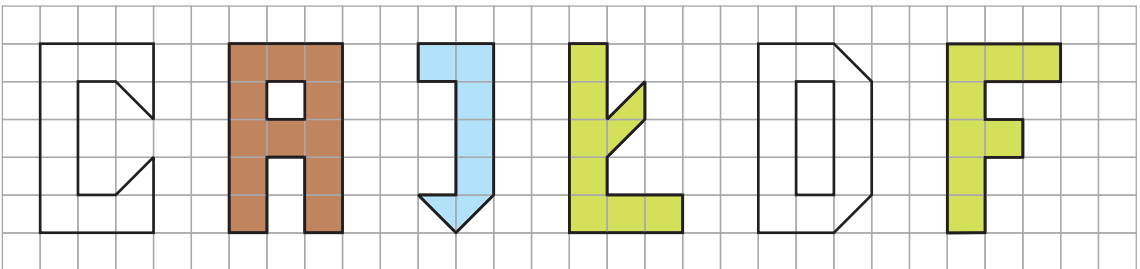
- 3 Pokoloruj na zielono figurę o najmniejszym polu, a na niebiesko figurę o największym polu.



- 4 Narysuj trzy figury o takim samym polu jak pole narysowanej figury.



- 5 Pokoloruj:
- na zielono – figury o takim samym polu,
  - na niebiesko – figurę o najmniejszym polu,
  - na brązowo – figurę o największym polu.



Która z figur ma dwa razy większe pole niż figura przedstawiająca literę J?

**Figura przedstawiająca literę A.**

- 6 Narysuj jak najwięcej figur o polu takim jak pole przedstawionego kwadratu.

