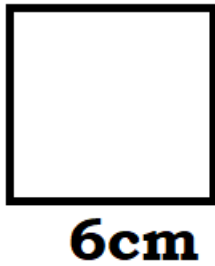


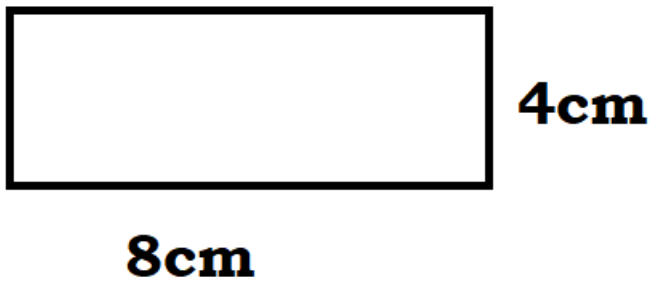
T: Podsumowanie wiadomości o polach figur płaskich.

W każdym przykładzie wypisz dane (np.: $a=5\text{cm}$, $h=3\text{cm}$) i wzór (np.: $P = a \cdot h$.)

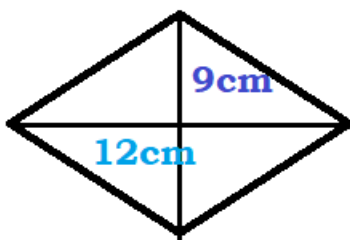
1. Oblicz pole kwadratu przedstawionego na rysunku.



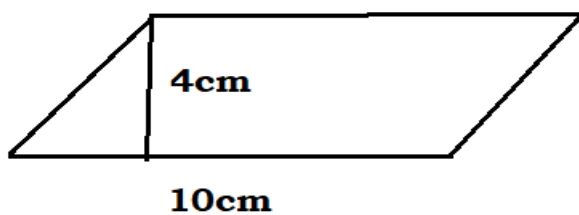
2. Oblicz pole prostokąta przedstawionego na rysunku.



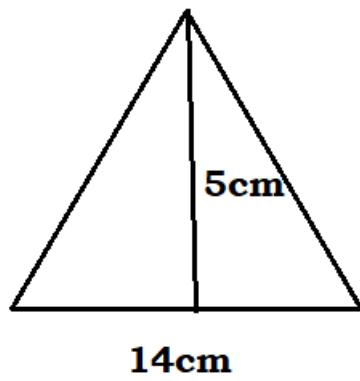
3. Oblicz pole rombu przedstawionego na rysunku.



4. Oblicz pole równoległoboku przedstawionego na rysunku.



5. Oblicz pole trójkąta przedstawionego na rysunku.



6. Oblicz pole trapezu przedstawionego na rysunku.

