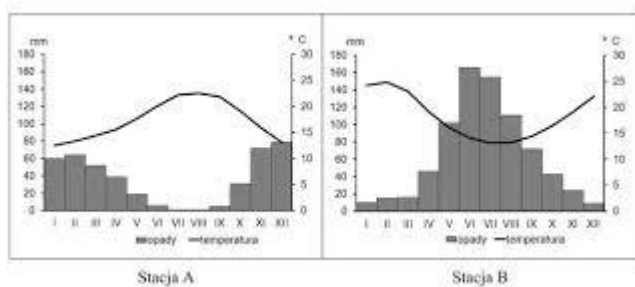


1. Na podstawie wykresu klimatycznego odczytaj informacje:

- a) Najcieplejszym miesiącem jest, w którym temperatura wynosi
- b) Najchłodniejszym miesiącem jest, ze średnią temperaturą
- c) Opady występują cały rok, lecz największe są w i wynoszą około.....



2. Pani Agata wybiera się na urlop w sierpniu. Na podstawie powyższych diagramów klimatycznych napisz, do której miejscowości (A czy B) powinna pojechać na wakacje. Odpowiedź uzasadnij.

.....

.....

.....

3. Na podstawie danych zamieszczonych w tabeli oblicz:

Miesiące	I	II	III	IV	V	VI
Temperatura (°C)	0,5	0,7	5,5	10,3	16,1	20,6
Opady (mm)	42	39	44	49	56	55

4.

a) Średnią temperaturę:

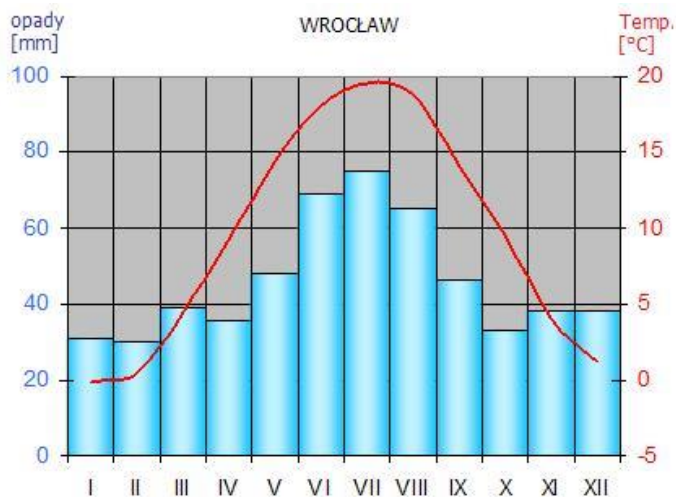
.....

b) Sumę opadów:

.....

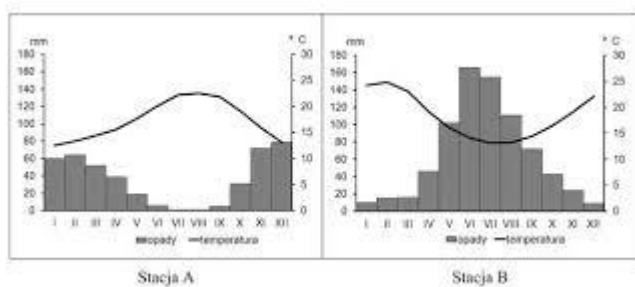
c) Amplitudę temperatury = najwyższa temperatura – najniższa temperatura

.....



1. Na podstawie wykresu klimatycznego odczytaj informacje:

- d) Najcieplejszym miesiącem jest, w którym temperatura wynosi
- e) Najchłodniejszym miesiącem jest, ze średnią temperaturą
- f) Opady występują cały rok, lecz największe są w i wynoszą około.....



2. Pani Agata wybiera się na urlop w sierpniu. Na podstawie powyższych diagramów klimatycznych napisz, do której miejscowości (A czy B) powinna pojechać na wakacje. Odpowiedź uzasadnij.

.....

.....

.....

3. Na podstawie danych zamieszczonych w tabeli oblicz:

Miesiące	I	II	III	IV	V	VI
Temperatura (°C)	0,5	0,7	5,5	10,3	16,1	20,6
Opady (mm)	42	39	44	49	56	55

4.

d) Średnią temperaturę:

.....

e) Sumę opadów:

.....

f) Amplitudę temperatury = najwyższa temperatura – najniższa temperatura

.....