

Imię i nazwisko

Klasa

Kartkówka V.3-4

Zadanie **1**


(.... / 6 pkt)

Rozwiąż równanie i sprawdź rozwiązanie.

a) $5 \cdot x = 130$

b) $4 \cdot x + 12 = 36$


c) $7 \cdot x - 22 = 27$

Zadanie **2**

(.... / 2 pkt)

Rozwiąż równanie i sprawdź rozwiązanie.

$6 \cdot x - 8 - x = 9 - 2 \cdot x - 3$



Imię i nazwisko

Klasa

Kartkówka V.3-4Zadanie **1**


(.... / 6 pkt)

Rozwiąż równanie i sprawdź rozwiązanie.

a) $6 \cdot x = 90$

b) $5 \cdot x + 14 = 59$

c) $8 \cdot x - 18 = 70$

Zadanie **2**

(.... / 2 pkt)

Rozwiąż równanie i sprawdź rozwiązanie.

$7 \cdot x - 9 - x = 8 - 2 \cdot x - 1$

